

**MIĘDZYSZKOLNA
LIGA PRZEDMIOTOWA**

PŁOCK 2023

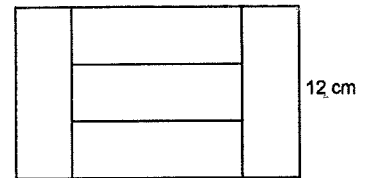
EDUKACJA

MATEMATYCZNA


kl. III

KOD UCZNI

Zadanie 5. (3 punkty)




Prostokąt, którego krótszy bok jest równy 12 cm podzielono na 5 identycznych prostokątów, tak jak na rysunku obok. Oblicz obwód tego prostokąta.




Zadanie 6. (3 punkty)

Maja obchodzi swoje urodziny piątego dnia, drugiego miesiąca trzeciego kwartału roku. Zosia urodziła się w przedostatnim dniu pierwszego półrocza tego samego roku. Ustal, kiedy obchodzi urodziny każda z dziewczynek i o ile dni jedna jest starsza od drugiej?



Zadanie 7. (3 punkty)

Hubert miał 89 klocków. Postanowił umieścić je w trzech pudełkach. Do pierwszego włożył pewną ich ilość. Do drugiego o 14 więcej niż do pierwszego, a do trzeciego o 11 mniej niż do drugiego. Ile klocków Hubert włożył do pierwszego pudełka?



Zadanie 8. (3 punkty)

Pięć worków mąki i trzy odważniki dwukilogramowe ważą tyle co dwa takie same worki mąki i dwanaście odważników dwukilogramowych. Ile waży worek mąki? Wykonaj rysunek pomocniczy.

